



السلسلة رقم (03)

التمرين 01:

أرسم المخطط الشبكي لتمثيل النشاطات الآتية:

النشاط	A	B	C	D	E	F	G	H
النشاط السابق	/	/	/	A,B	C	D,E	D,E	F, G

التمرين 02:

أرسم شبكة الأعمال الآتية:

النشاط	النشاط السابق
A	/
B	A
C	A
D	B
E	C,D
F	C,D
G	E,F

التمرين 03:

أحد المشروعات يحتوي على الوظائف من A إلى H حيث:

1- A, B, C النشاطات المبتدئ بها المشروع.

2- تتابع الوظائف.

- D, E يجب أن تتبع A

- F يجب أن تتبع B

- G يجب أن تتبع C, D

- H يجب أن تتبع E

مشروع التالي ممثل حسب المعطيات التالية:

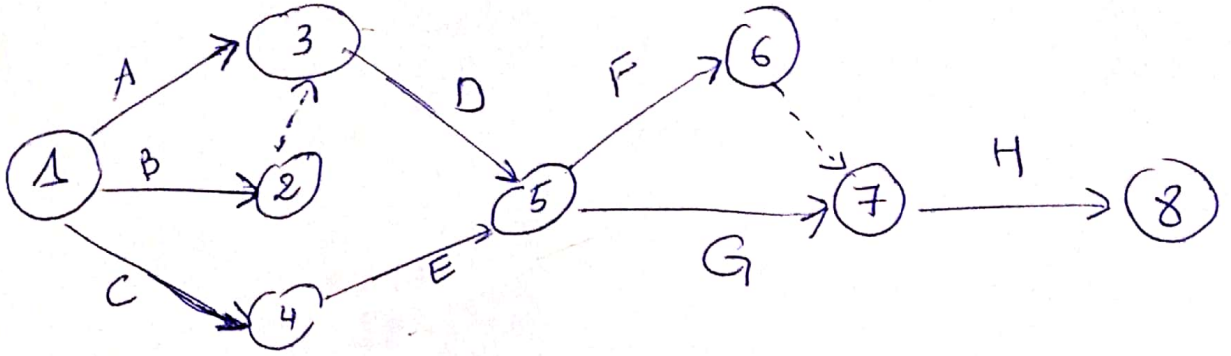
						النشاط
F	E	D	C	B	A	
C	B	/	A	/	/	النشاط السابق

المطلوب: تمثيل المشروع شبكيا.

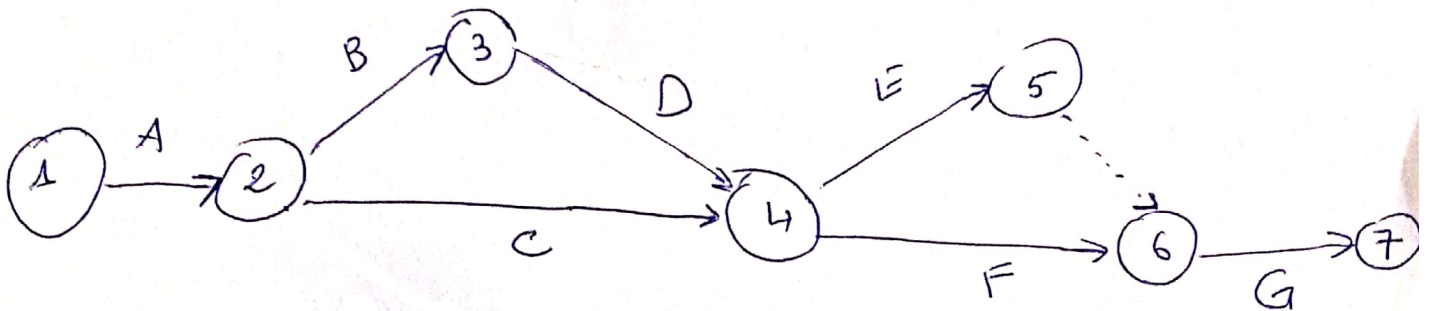
الأستاذ: قعيد إبراهيم.

الحل السلسلة، رقم (03)
 لطلبة سنة ثالثة اقتصاد كمي طبقا ببحوث العمليات 1
 للموسم 2020/2021

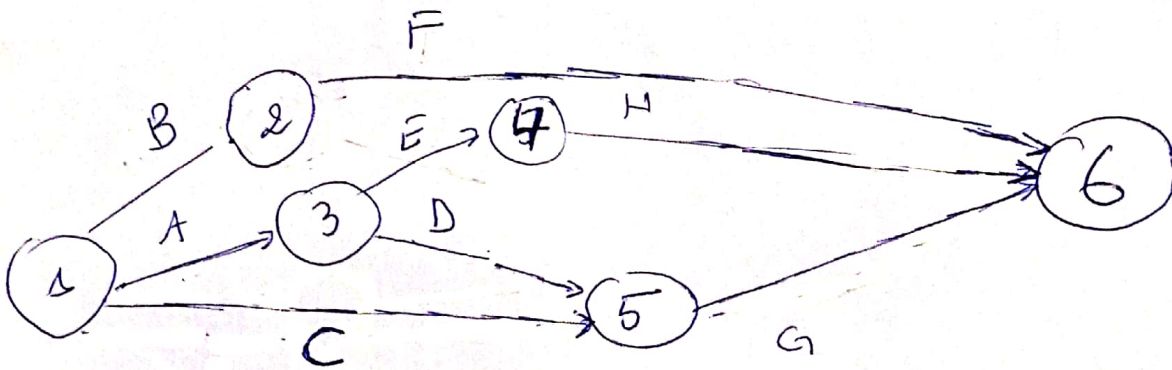
* حل التمرين الاول، رسم الشبكة



* حل التمرين الثاني، رسم الشبكة



* حل التمرين الثالث



* حل التمرين الرابع

