

## سلسلة (فيزياء 1) السنة أولى تكنولوجيا

### التمرين 1:

لديك الأشعة التالية.

$$\vec{W} = -3\vec{i} + 2\vec{j} + \vec{k} \quad \text{و} \quad \vec{C} = 2\vec{i} + 0\vec{j} - \vec{k} \quad ، \quad \vec{V} = 3\vec{i} - 2\vec{j} + 2\vec{k}$$

(1)- أرسم الأشعة الثلاثة في معلم كارتزي.

(2)- أحسب الجداء السلمي  $\vec{W} \cdot \vec{V}$  ثم احسب  $\cos$  الزاوية  $\alpha$  بين الشعاعين.

(3)- أحسب الجداء الشعاعي  $\vec{C} \wedge \vec{W}$

### التمرين 2 :

نعتبر نقطة مادية تتحرك في معلم  $R(O, xyz)$  أشعة الوحدة في هذا المعلم هي  $(\vec{i}, \vec{j}, \vec{k})$

$$X(t) = t+1 \quad y(t) = t^2 + 1 \quad Z(t) = 0 \quad M$$

(1)- أعطي معادلة مسار هذه النقطة المادية.

(2)- احسب السرعة والتسارع لهذه النقطة.

### التمرين 3 :

شعاع في معلم اسطواني معطى بالعلاقة التالية  $\vec{OM} = 2u\vec{p} + 2t\vec{k}$   $\theta = \frac{\pi}{3}$

1- أعطي الشعاع  $\vec{OM}$  في المعلم الكارتزي

2 - أحسب الجداء الشعاعي للشعاعين  $\vec{OM} = 1\vec{i} + \sqrt{3}\vec{j} + 2t\vec{k}$  و  $\vec{W} = 2\vec{i} + 2\vec{j}$

### التمرين 4 :

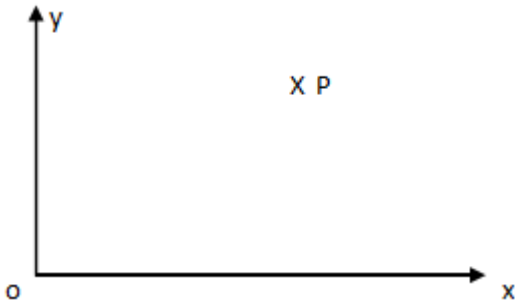
نقطة P في المستوي أنظر الشكل الشعاع  $\vec{OP}$

على المعلم  $(O, X, Y)$

1- أعطي مركبات الشعاع  $\vec{OP}$  في المعلم الكارتزي

2- مثل المعلم القطبي على نفس المستوي ثم أعطي مركبات الشعاع  $\vec{OP}$  على المعلم القطبي

3- أعطي العلاقة بين المركبات الكارتزية والقطبية وكذلك العلاقة بين أشعة الوحدة



سلسلة (فيزياء 1) السنة أولى تكنولوجيا

التمرين : 5

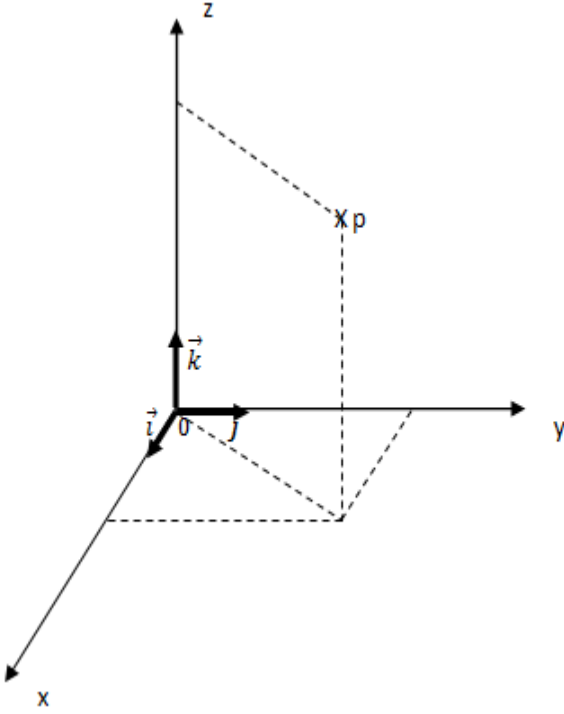
نقطة في الفضاء P أنظر الشكل

1- مثل المعلم الاسطواني والكروي في نفس المعلم .

2- إذا علمت أن مركبات  $\vec{OP}$  في المعلم الكارتي هي

$$(2, 2\sqrt{3}, 4)$$

3- حدد الإحداثيات الأسطوانية والكروية للنقطة P



التمرين : 6

سيارة تسير على مسار مستقيم سرعتها في خمسة مراحل

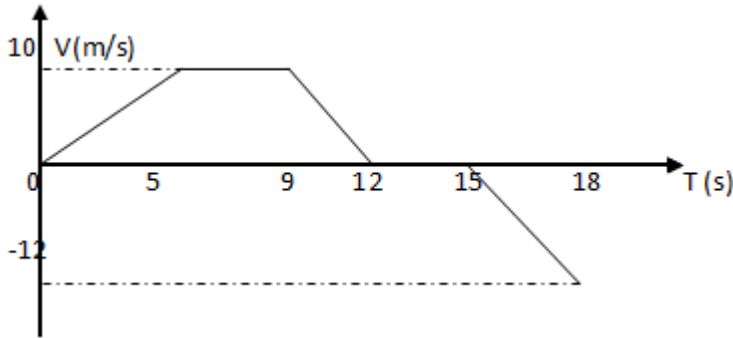
معطاة بالمخطط التالي.

في المراحل الخمسة أعطي

1- القيمة الجبرية للتسارع

2- المعادلة الزمنية للسرعة بأخذ بداية كل مرحلة مبدأ للزمن

3- طبيعة الحركة في كل مرحلة



## سلسلة (فيزياء 1) السنة أولى تكنولوجيا

### التمرين : 7

متحرك (A) يقوم بحركة على مسار مستقيم وفق المعادلة الآتية :

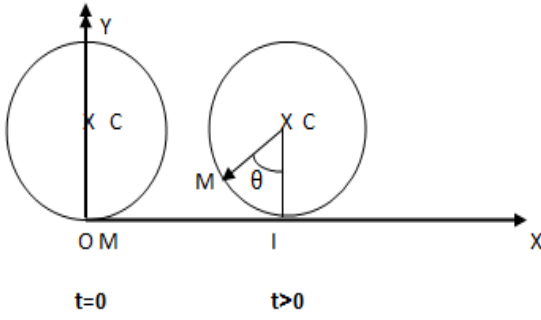
$$X(t) = 3 \sin\left(\frac{\pi}{2}t + \frac{\pi}{2}\right)$$

1. ما هي عبارة سرعة المتحرك (A) ثم احسب قيمتها عند  $t = 1s$ .
2. ما هي عبارة تسارع المتحرك (A) ثم احسب قيمتها عند  $t = 1s$ .
3. ارسم المنحنى البياني للفاصلة.

### التمرين : 8

تندرج عجلة دون انزلاق على مسار مستقيم أنظر الشكل عند  $t = 0$  حيث M نقطة من العجلة موضوعة في المبدأ الزمن

أنظر الشكل .



- 1- ما هي المركبات الكارتزية للنقطة M بدلالة نصف القطر R والزاوية  $\theta$

2- أعطي شعاع السرعة  $\vec{V}$

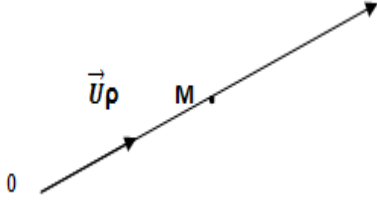
بدلالة R و  $\vec{a}$  وشعاع التسارع

- 3 - أعطي قيم السرعة والتسارع  $\vec{V}$  و  $\vec{a}$  عندما تلامس النقطة M المحور  $\vec{Ox}$

## سلسلة (فيزياء 1) السنة أولى تكنولوجيا

### التمرين : 9

نقطة مادية تتحرك على مسار مستقيم وفق  $\rho = 2a \cos \theta$  حيث  $\theta = \omega t$  (a و  $\omega$ ) ثابتان  
المعادلة التالية أنظر الشكل



1- أعطي شعاع الموضع في المعلم القطبي

2- احسب شعاع السرعة

3- احسب شعاع التسارع

4- استنتج شعاع السرعة والتسارع في المعلم الكارترزي

### التمرين : 10

نقطة مادية M تتحرك على مسار وفق العلاقة التالية والشكل يبين شعاع الموضع

$$\rho = 2a \cos \theta \text{ حيث } a = \text{ثابت و } \omega = \text{ثابت } \theta = \omega t$$

1- أعطي شعاع الموضع في المعلم القطبي

2- أعطي شعاع السرعة والتسارع في المعلم القطبي

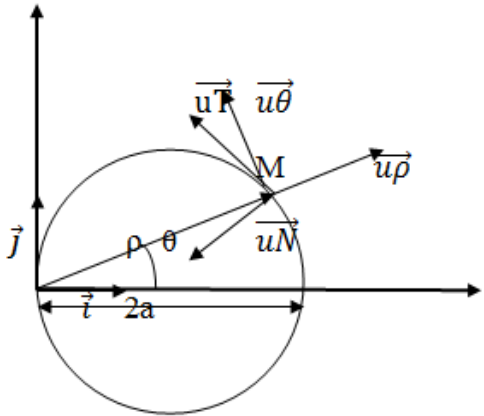
وطوليتيهما

3- أعطي مركبات شعاع الموضع في المعلم الكارترزي ثم احسب

مركبات شعاع السرعة والتسارع

وطوليتيهما ماذا تستنتج ؟

4- مثل شعاع السرعة والتسارع على الشكل



### التمرين : 11

نقطة مادية تتحرك على معلم اسطواني هي  $t_2 = \theta = 5$  و  $t_3 = z = \rho$

1- أعطي شعاع الموضع وشعاعي السرعة والتسارع ثم احسب طوليتيهما.

### التمرين : 12

نقطة مادية تتحرك على سطح كرة حيث المركبات الكروية هي  $\theta = \pi/3$  و  $R = r$  و  $t_3 = \varphi$

1- أعطي شعاع الموضع وشعاعي السرعة والتسارع ثم احسب طوليتيهما في المعلم الكروي.

2- أعطي شعاع الموضع وشعاعي السرعة والتسارع ثم احسب طوليتيهما في المعلم الكارترزي.

## سلسلة ( فيزياء 1 ) السنة أولى تكنولوجيا

### تمارين الحركة النسبية

#### التمرين : 13

قارب يسير فوق مياه نهر بسرعة  $V_1 = 2 \text{ m/s}$  حيث هذا القارب يشق النهر من الضفة إلى الضفة الأخرى شاقوليا علما أن مياه النهر تسير بسرعة  $V_2 = 2 \text{ m/s}$  موازية لضفتي النهر.

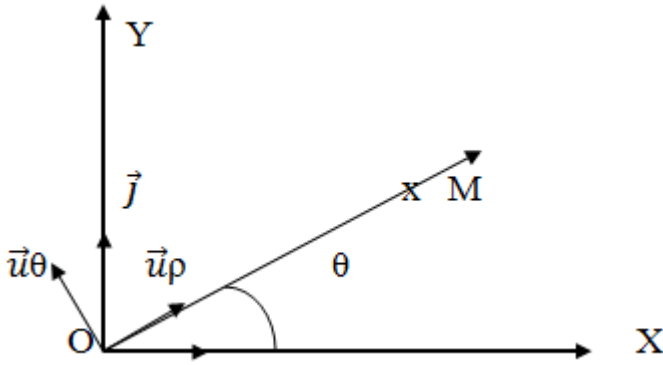
1- ما يمثل  $V_1$  و  $V_2$

2- احسب السرعة المطلقة ثم مثلها برسم توضيحي.

#### التمرين : 14

نقطة مادية  $M$  تقوم بحركة على معلم قطبي  $(o, \vec{u}_\rho, \vec{u}_\theta)$  حيث شعاع الموضع  $\vec{OM} = \rho \vec{u}_\rho$  انظر

الشكل الزاوية  $\theta = 2t^2$  و  $\rho = 3t^2 + 2$  والمعلم القطبي يتحرك بالنسبة لمعلم مطلق  $(o, \vec{i}, \vec{j}, \vec{k})$



1- احسب السرعة النسبية.

2- احسب سرعة الجر

3- استنتج السرعة المطلقة

4- احسب التسارع النسبي

4- احسب التسارع النسبي

5- احسب تسارع الجر

6- احسب تسارع كوريوليس

7- استنتج التسارع المطلق

التمرين : 15

ليكن المعلم المطلق  $R ( o , x , y , z )$  قاعدته  $( o , \vec{i} , \vec{j} , \vec{k} )$  ومعلم نسبي  $R_1 ( O_1 , \vec{u}_1 , \vec{u}_2 , \vec{k} )$  حيث المعلم النسبي يقوم بحركة انسحابيه على المحور  $\vec{OZ}$  وفق المعادلة التالية  $\vec{OO}_1 = 2t \vec{k}$  وحركة دورانية حول المحور  $\vec{OZ}$  بزواوية دوران  $\theta = \omega_1 t$  افقية انظر الشكل نقطة مادية  $M$  تتحرك على ساق مثبتته في  $O_1$  وتدور افقيا حول المحور  $\vec{OZ}$  بزواوية  $\varphi = \omega_2 t$  بالنسبة ل  $\vec{u}_1$  نعتبر الساق معلم قطبي

$R_1 ( O_1 , \vec{u}_\rho , \vec{u}_\varphi )$  و شعاع الموضع  $\vec{O_1M} = \rho \vec{u}_\rho$  المعلم القطبي هو معلم متحرك بالنسبة للمعلم  $R_1$

احسب السرعة النسبية  $\vec{V}_r(M)$

-1

2- احسب السرعة الجر  $\vec{V}_e(M)$

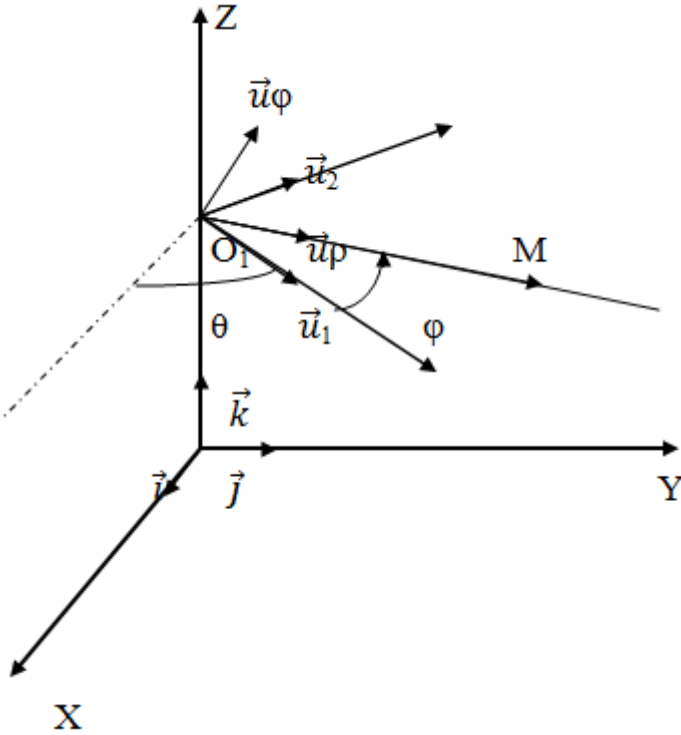
3- احسب السرعة المطلقة  $\vec{V}_a(M)$

4- احسب التسارع النسبي  $\vec{a}_r(M)$

5- احسب تسارع الجر  $\vec{a}_e(M)$

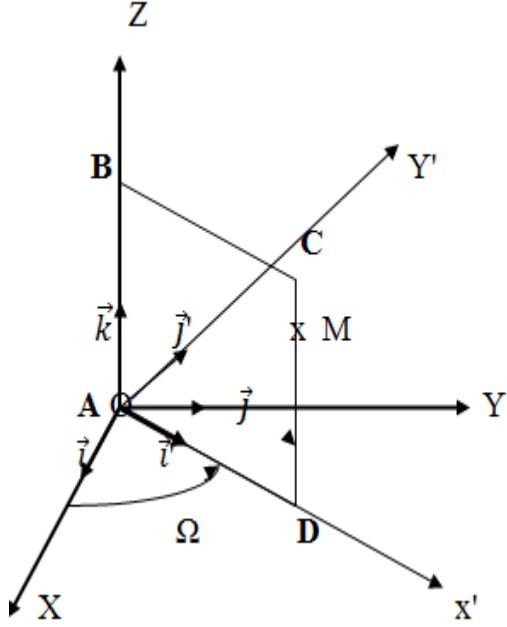
6- احسب تسارع كوريوليس  $\vec{a}_c(M)$

7- احسب التسارع المطلق  $\vec{a}_a(M)$



التمرين : 16

مربع طول ضلعه  $a$  يدور حول المحور  $OZ$  من معلم مطلق  $(O, i, j, k)$  بزاوية  $\Omega = 2t$   
 هذا المربع  $ABCD$  تتحرك عليه نقطة مادية على الضلع  $CD$  وفق المعادلة  $Z = 3t^2$  الحركة  
 من الأسفل إلى الأعلى انظر الشكل .



1- احسب السرعة المطلقة بطريقة مباشرة.

2- احسب التسارع المطلق بطريقة

مباشرة.

3- احسب السرعة النسبية.

4- احسب سرعة الجر.

5- احسب السرعة المطلق.

6- احسب التسارع المطلق بطريقة غير مباشرة.

## سلسلة ( فيزياء 1 ) السنة أولى تكنولوجيا

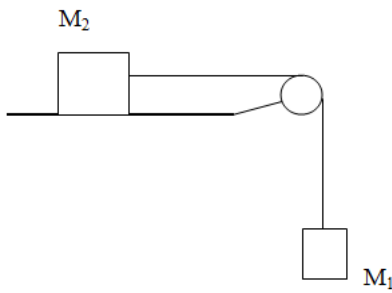
### تمارين الديناميك

#### التمرين : 17

جسم  $M_1$  كتلته  $m_1$  يجر أثناء سقوطه جسم ثاني  $M_2$  كتلته  $m_2$  بواسطة خيط عديم التمدد يمر على محز بكره مهملة الكتلة نصف  $R$  الجسم الثاني يتعرض إلى قوة احتكاك  $f$  تساوي عشر ثقله على المستوي قطرها

الأفقي أنظر الشكل .  $f = P_2/10$   $m_1 = m_2 = 1\text{kg}$  ,  $g = 10\text{ m/s}^2$

معطيات



1- احسب تسارع الجملة

2- احسب توتر الخيط

3- احسب سرعة الجسمين عند  $t = 3\text{s}$

4- احسب تسارع  $M_1$  ,  $M_2$  عند انقطاع الخيط

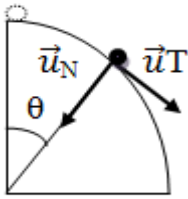
#### التمرين : 18

كرية من حديد كتلتها  $m$  تنزلق على مسار دائري بدون سرعة ابتدائية انطلاقا من الشاقول أنظر الشكل .

1- مثل كل القوى على الكرية

2- عين النقطة من المسار الدائري الذي تغادر منه الكرية

نعتبر المسار نصف  $R$  ثابت و  $\theta$  الزاوية بين الشاقول و  $R$  قطره



#### التمرين : 19

نواس بسيط طوله  $L$  و كتلته  $m$  نزيحه عن وضع توازنه بزاوية  $\theta$  صغيرة أنظر الشكل.

